

Exercici 1

Dues càrregues elèctriques de $0,03 \mu\text{C}$ cadascuna, però de signe contrari, es troben separades $40,0 \text{ cm}$.

- Representeu i calculeu el vector del camp elèctric en el punt que forma un triangle equilàter amb la posició de les càrregues. Calculeu també el potencial elèctric en el mateix punt.
- Si modifiquem la distància entre les càrregues fins a duplicar-la, en quant varia l'energia potencial elèctrica de la distribució de càrregues? Expliqueu raonadament si augmenta o disminueix.

DADA: $k = \frac{1}{4\pi\epsilon_0} = 8,99 \times 10^9 \text{ N m}^2 \text{ C}^{-2}$

Exercici 2

Tenim tres partícules carregades, $Q_1 = 3,0 \mu\text{C}$, $Q_2 = -5,0 \mu\text{C}$ i $Q_3 = -8,0 \mu\text{C}$, situades, respectivament, en els punts $P_1 = (-1,0, 3,0)$, $P_2 = (3,0, 3,0)$ i $P_3 = (3,0, 0,0)$.

- Dibuixeu les forces que exerceixen Q_1 i Q_2 sobre Q_3 . Calculeu la força elèctrica total, expressada en coordenades cartesianes, que actua sobre Q_3 .
- Calculeu el treball que fa la força elèctrica sobre Q_3 quan aquesta càrrega es desplaça des del punt P_3 , que ocupa inicialment, fins al punt $P_4 = (-1,0, -3,0)$. Interpreteu el signe del resultat.

NOTA: Les coordenades dels punts estan expressades en metres.

DADA: $k = 9,0 \times 10^9 \text{ N m}^2 \text{ C}^{-2}$.

Exercici 3

Dues càrregues elèctriques puntuals de $+3 \mu\text{C}$ i $-7 \mu\text{C}$ es troben situades, respectivament, en els punts $(0, 3)$ i $(0, -5)$ d'un pla. Calculeu:

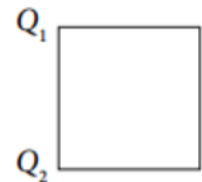
- El camp elèctric que creen aquestes càrregues en el punt $P(4, 0)$.
- La diferència de potencial $V(O) - V(P)$, on O és el punt $(0, 0)$.
- El treball que cal fer per a traslladar una càrrega de $+5 \mu\text{C}$ des del punt $O(0, 0)$ fins al $P(4, 0)$. Interpreteu el signe del resultat.

NOTA: Les coordenades dels punts s'expressen en metres.

DADES: $k = 1/(4\pi\epsilon_0) = 9 \cdot 10^9 \text{ N} \cdot \text{m}^2 \cdot \text{C}^{-2}$.

Exercici 4

En el quadrat de la figura, de 2,00 m de costat, hi ha dues càrregues $Q_1 = 9,00 \mu\text{C}$ i $Q_2 = -9,00 \mu\text{C}$ en els vèrtexs de l'esquerra.

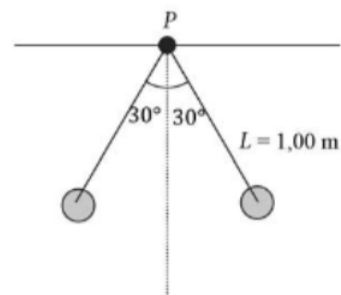


- Determineu la intensitat del camp elèctric en el centre del quadrat.
- En el centre del quadrat hi situem una tercera càrrega $Q_3 = 7,00 \mu\text{C}$. Calculeu el treball que farà la força elèctrica que actua sobre Q_3 quan la traslladem del centre del quadrat al vèrtex inferior dret.

DADA: $k = 9,00 \times 10^9 \text{ N m}^2 \text{ C}^{-2}$

Exercici 5

Dues esferes metàl·liques massisses pegen cadascuna d'un fil no conductor, com mostra la figura. Les dues esferes tenen la mateixa massa i la mateixa càrrega negativa de valor $-5,80 \mu\text{C}$ i es troben en equilibri formant un angle de 30° amb la vertical. La distància des del punt P fins al centre de cada esfera és d'1,00 m.



- Calculeu el valor de la massa de cadascuna de les esferes.
- Calculeu el camp elèctric total (mòdul, direcció i sentit) en el punt P .

DADES: $g = 9,81 \text{ m s}^{-2}$

$$k = \frac{1}{4\pi\epsilon_0} = 8,99 \times 10^9 \text{ N m}^2 \text{ C}^{-2}$$

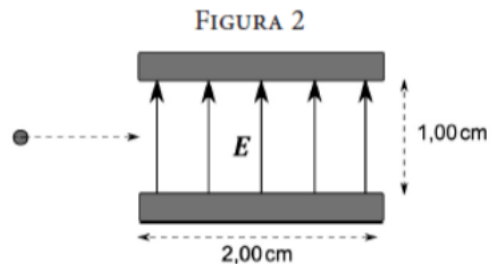
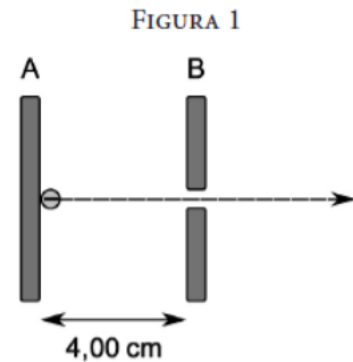
Exercici 6

Un canó electrònic que dispara electrons els accelera, mitjançant un camp elèctric uniforme generat per dues plaques metàl·liques (A i B), des del repòs fins a una velocitat de $2,00 \times 10^6 \text{ m s}^{-1}$ (figura 1). Dins del canó, els electrons inicien el recorregut a la placa A i viatgen cap a la placa B, per on surten horitzontalment cap a la dreta per un petit orifici. Les dues plaques són paral·leles i estan separades per 4,00 cm.

- Calculeu la diferència de potencial entre les dues plaques i indiqueu quina placa té el potencial més alt i quina té el potencial més baix. Dibuixeu la figura 1 i representeu-hi les línies de camp elèctric entre les dues plaques.
- Més endavant, els electrons passen entre dues altres plaques, que generen un camp elèctric uniforme de 500 N C^{-1} vertical cap amunt (figura 2). Calculeu l'acceleració dels electrons quan estiguin sota l'acció d'aquest camp elèctric i les dues components de la velocitat en sortir del recinte on hi ha el camp elèctric.

DADES: $|e| = 1,6 \times 10^{-19} \text{ C}$.
 $m_e = 9,11 \times 10^{-31} \text{ kg}$.

NOTA: Considereu negligible el camp gravitatori.



Exercici 7

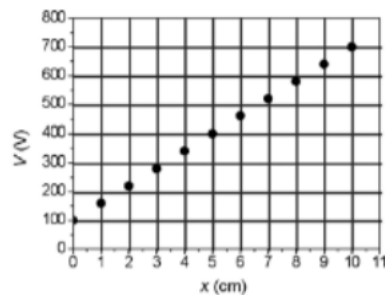
Per a obtenir un camp elèctric vertical aproximadament uniforme de $5\,000\text{ N/C}$ i dirigit cap amunt, disposem de dues plaques metàl·liques paral·leles separades $10,0\text{ mm}$, a les quals apliquem una diferència de potencial.

- Feu un esquema del muntatge en què indiqueu el signe de la càrrega de cada placa i representeu-hi les línies del camp elèctric. Calculeu la diferència de potencial entre les plaques i justifiqueu el signe del resultat.
- Dues partícules de pols, de $0,50\text{ }\mu\text{g}$ de massa cadascuna, es troben entre les dues plaques. Una de les partícules (A) queda suspesa en equilibri i l'altra (B) es mou amb una acceleració de $14,7\text{ m/s}^2$ cap avall. Determineu la càrrega elèctrica de cada partícula. Considereu que entre les plaques no hi ha aire.

DADA: $g = 9,81\text{ m s}^{-2}$

Exercici 8

En la gràfica següent es representa el potencial elèctric que hi ha a l'interior d'un condensador planoparal·lel, en què la x indica la distància a una de les armadures del condensador. La distància entre les armadures és de 10 cm .



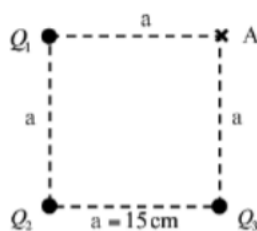
Determineu:

- La diferència de potencial entre les armadures.
- L'equació de la recta que ajusta els punts de la gràfica i la intensitat del camp elèctric a l'interior del condensador.

Exercici 9

En tres dels vèrtexs d'un quadrat de 15 cm de costat hi ha les càrregues $Q_1 = +1,0 \mu\text{C}$, $Q_2 = -2,0 \mu\text{C}$ i $Q_3 = +1,0 \mu\text{C}$, tal com indica la figura. Calculeu:

- El camp elèctric (mòdul, direcció i sentit) creat per les tres càrregues en el quart vèrtex, punt A.
- El potencial elèctric total en el punt A. Calculeu el treball que cal fer per a traslladar una càrrega de $7,0 \mu\text{C}$ des de l'infinit fins al punt A. Digueu si el camp fa aquest treball o si el fa un agent extern.

**Exercici 10**

Un dipol elèctric és un sistema constituït per dues càrregues del mateix valor i de signe contrari, separades per una distància fixa. Sabem que la càrrega positiva d'un dipol està situada en el punt (0, 0), que la negativa és en el punt (3, 0) i que el valor absolut de cada una de les càrregues és 10^{-4} C . Calculeu:

- El potencial elèctric creat pel dipol en el punt (0, 4).
- L'acceleració que experimenta un protó situat en el punt mitjà del segment que uneix les dues càrregues del dipol, si el deixem inicialment en repòs en aquest punt.
- L'energia necessària per a separar les càrregues del dipol fins a una distància doble de la inicial.

NOTA: Les coordenades s'expressen en metres.

DADES: $q_{\text{protó}} = 1,60 \cdot 10^{-19} \text{ C}$; $m_{\text{protó}} = 1,67 \cdot 10^{-27} \text{ kg}$; $k = 1/4\pi\epsilon_0 = 9,00 \cdot 10^9 \text{ N} \cdot \text{m}^2/\text{C}^2$.

Exercici 11

Dues càrregues puntuals de $+2 \mu\text{C}$ i $+20 \mu\text{C}$ es troben separades per una distància de 2 m.

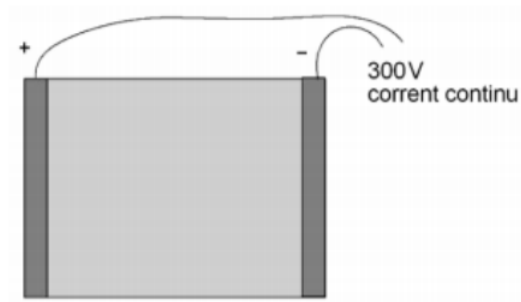
- Calculeu el punt, situat entre les dues càrregues, en què el camp elèctric és nul.
- Busqueu el potencial elèctric en un punt situat entre les dues càrregues i a 20 cm de la càrrega menor.
- Determineu l'energia potencial elèctrica del sistema format per les dues càrregues.

DADES: $k = 1/(4\pi\epsilon_0) = 9 \cdot 10^9 \text{ N} \cdot \text{m}^2/\text{C}^2$.

Exercici 12

L'electroforesi és un mètode per a analitzar mescles. Disposem una mostra entre dos elèctrodes connectats a una diferència de potencial de 300 V. La distància entre els elèctrodes és de 20,0 cm.

- Dibuixeu les línies del camp elèctric que hi ha entre els dos elèctrodes i les diferents superfícies equipotencials. Indiqueu el potencial de cada una de les superfícies. Calculeu el valor del camp elèctric que hi ha entre els dos elèctrodes, i indiqueu la direcció i el sentit de les partícules positives i les negatives.
- En les condicions adequades, les molècules adquireixen càrrega elèctrica i es desplacen en l'aparell d'electroforesi amb un moviment rectilini lent i uniforme. Calculeu la força elèctrica i la força de fricció que actuen sobre una molècula de timina amb una càrrega de $-1,60 \times 10^{-19} \text{ C}$.



Exercici 13

Un electró es llança des del punt P i passa successivament per les regions A i B. A la regió A, un camp elèctric constant fa que l'electró es mogui amb un moviment rectilini i una acceleració uniforme cap a la dreta. A la regió B, el camp elèctric també és constant i està dirigit cap avall.



- a) Quina direcció i quin sentit té el camp elèctric a la regió A? Quin tipus de moviment realitza l'electró a la regió B?

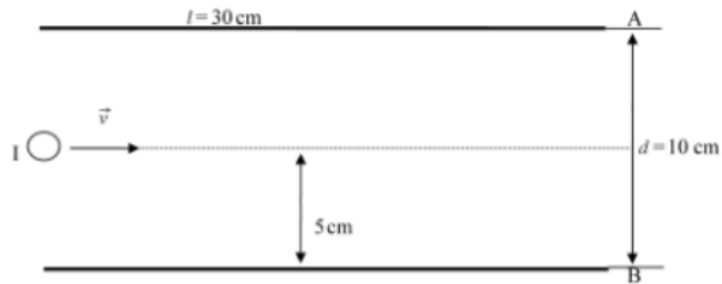
Sabem que la regió A fa 5,00 cm de llarg i que el camp elèctric en aquesta regió és $E = 40,0 \times 10^3 \text{ N C}^{-1}$.

- b) Calculeu la diferència de potencial entre l'inici i el final de la regió A i l'energia cinètica que guanyarà l'electró en travessar-la.

DADA: $Q_{\text{electró}} = -1,60 \times 10^{-19} \text{ C}$.

Exercici 14

Entre dues plaques metàl·liques conductores, de 30 cm de llargària, hi ha un camp elèctric uniforme vertical, d'intensitat $E = 10^4 \text{ V/m}$.



- A quina velocitat \vec{v} (horitzontal) s'ha de llançar un electró des de la posició I, a l'entrada del camp, perquè en surti fregant un dels extrems (A o B) de les plaques?
- Expliqueu raonadament quin tipus de trajectòria descriu l'electró dins del camp. Calculeu el treball que fa la força elèctrica que actua sobre l'electró en el recorregut que descriu pel camp.

DADES: $m_{\text{electró}} = 9,11 \times 10^{-31} \text{ kg}$; $Q_{\text{electró}} = 1,602 \times 10^{-19} \text{ C}$.

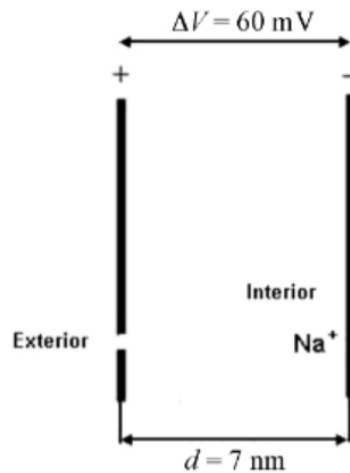
Exercici 15

Molts processos vitals tenen lloc en les membranes cel·lulars i depenen bàsicament de l'estructura elèctrica d'aquestes.

La figura següent mostra l'esquema d'una membrana biològica.

- Calculeu el camp elèctric, suposat constant, a l'interior de la membrana de la figura. Indiqueu-ne el mòdul, la direcció i el sentit.
- Calculeu l'energia que es requereix per a transportar l'ió Na^+ de la cara negativa a la positiva.

DADES: $Q_{\text{Na}^+} = 1,60 \times 10^{-19} \text{ C}$.



Exercici 16

En una regió de l'espai hi ha un camp elèctric constant de mòdul 500 N C^{-1} dirigit cap avall. Vegeu la figura, en què l'eix z representa la vertical.

- Calculeu les diferències de potencial següents: $V_A - V_B$, $V_B - V_C$ i $V_A - V_C$.
- Colloquem una partícula carregada, de massa $2,00 \text{ g}$, en el punt C i volem que es mantingui en equilibri. Calculeu quina càrrega i quin signe hauria de tenir aquesta partícula. Estarà en equilibri en algun altre punt d'aquesta regió? Justifiqueu les respostes.

DADA: $g = 9,80 \text{ m/s}^2$.

